


## Leerdoel

Je leert begrippen als BTW  
interest en vreemde valuta,  
manieren van betalen in  
handel en verkoop en je  
maakt berekeningen met  
de computer.

**B K G**

# module



## Betalingsverkeer

# 1



## Introductie

Elke dag moet je wel wat uitrekenen.

Wat sta ik gemiddeld voor het vak Nederlands?

Ik heb trek in een patatje en daar lust ik ook nog wel een cola bij. Heb ik daar genoeg geld voor?

We hebben nog acht punten nodig om er zeker van te zijn dat we kampioen worden. Hoeveel wedstrijden moeten we dan nog winnen?

Ik moet om zes uur thuis zijn. Het is nu half drie. Heb ik nog genoeg tijd om bij mijn vriendin langs te gaan? Bij al die vragen moet je iets uitrekenen.



Om een bedrijf goed te laten lopen, moet er ook vaak gerekend worden. Bijvoorbeeld om erachter te komen wat je het beste kunt doen met het verdiende geld. Ga je het op de bank zetten? Of wil je het bedrijf uitbreiden? Andere vragen kunnen zijn: In welk land kan ik het beste de goederen voor mijn bedrijf inkopen?

Of: moet ik nog een jaar met die auto doorrijden? Er moeten nieuwe banden en een nieuwe uitlaat onder, dat kost veel geld. Misschien is het beter een nieuwe auto te kopen, dan heb ik geen kosten en nog garantie ook.

Op veel vragen kun je een goed antwoord geven door te rekenen.

Bedrijfsrekenen heet dat.



- 1 Björn heeft in de krant van de Makro de volgende advertentie zien staan. Kijk er eens goed naar.

**166 Mhz  
16 MB  
2.1 GB**

**MULTIMEDIA-COMPUTER**  
"Makosumi 9723 MM". Intel Pentium 166 processor.  
Kloksnelheid: 166 Mhz. 16 MB intern geheugen.  
2.1 GB harddisk. Videokaart met 1MB geheugen.  
16-speed CD-ROM speler. 16-bits geluidkaart.  
Twee-weg speakerset (90 Watt PMPO).  
Windows 95 toetsenbord en 3 knops muis.  
Software: Windows 95 (boek, cd en installatiecd).  
1 jaar garantie met service aan huis (binnen Nederland)  
en 1 jaar telefonische helpdesk.  
Prijs incl. 14" monitor (0.28 pitch)

**1999,-**  
(2378,81 incl.)

**winst  
pakker**

MAKOSUMI  
intel  
inside  
pentium

a Welk bedrag wordt er groot afgedrukt?

.....

b Welk bedrag wordt er klein afgedrukt?

.....

c Welk bedrag moet Björn aan de kassa betalen?

.....

d Waarom vermeldt de Makro twee bedragen?

.....

.....

- 2 Hier zie je een advertentie van een autodealer en van een drogist. Bekijk de advertenties goed en beantwoord de volgende vragen.

**De Winter Top**  
**10**  
**van Ford**



*Uw Ford dealer helpt u de winter door!*

**Uw Ford wordt gecontroleerd op o.a. de volgende 10 vitale onderdelen:**

- Koelsysteem/Antivries
- Waterslangen
- V-snaren
- Ruitensproeier-reservoir
- Wisserbladen
- Banden
- Remblokken
- Accu
- Oliepeil
- Verlichting

29.95

**incl. BTW**

+ een officieel garantiecertificaat voor de gecontroleerde onderdelen!  
+ kans op een gratis rijvaardigheids-training!  
+ GRATIS koffie  
Een afspraak vooraf is niet nodig!

Geldig van zaterdag 15 t/m 22 november a.s.

**Zaterdag 15 en 22 november geopend van 09.00-17.00 uur.**  
**Op werkdagen geopend van 08.00-17.00 uur.**

<b>Automobilbedrijf Blijdorp B.V.</b> Laagjes 4 3076 BJ ROTTERDAM Telefoon 010-49 27 777	<b>Automobilbedrijf Blijdorp Spijkenisse B.V.</b> Boyleweg 4 3208 NA SPLUKENISSE Telefoon 0161-82 75 37	<b>AutoBrugStad</b> Koperstraat 15 3067 GL ROTTERDAM Telefoon 010-45 57 671	<b>Vink &amp; Evag</b> Automobilbedrijven D.V. Jan Evertsenweg 6 3115 JA SCHIEDAM Telefoon 010-42 64 690
<b>Schermerhoek</b> 523-524 2905 TW CAPELLE a/d LISSEL Telefoon 010-45 13 255	<b>Ottocar Gouda B.V.</b> Edisonstraat 2 2809 PB GOUDA Telefoon 0182-51 29 77	<b>AutoBrugStad</b> Graafstroomstraat 25 3044 AN ROTTERDAM Telefoon 010-43 76 011	

**LOU LOU BLUE**  
eau de toilette vapo  
35 ml

29.95



EAU DE TOILETTE  
VAPORISATEUR - NATURAL SPRAY  
**(cacharel)**  
PARIS  
1.17 FL OZ      35 mL

a Wat moet een klant voor een winterbeurt bij de dealer betalen?

.....

b Wat moet een klant voor de eau de toilette betalen?

.....

c Waarom vermeldt de autodealer bij de prijs 'incl. BTW'?

.....

- 3 Hier zie je een afschrift van de Postbank.  
Bekijk het afschrift en beantwoord de vragen.

POSTBANK 		Afrekening GIROrekening in euro's			
BJÖRN LENTELINK TALMAWEG 30 4567 ER LEKEBAND 4567ER30		Datum 10-01-20..	Girorekening 1423673	Bladnr. 1*	Volgnr. 45
Totaal afgeboekt bedrag			Vorig saldo		
0,00			956,00		
Totaal bijgeboekt bedrag			Nieuw saldo		
58,00			1.014,00		

Geboekt op	Naam/omschrijving	*laatste blad	Code	Nr.	Giro/Bankrekening	A/Bij	Bedrag
31 DEC	RENTE		R			BIJ	58,00

<b>Girofoon (026) 3 555 666</b> Actueel saldo en bij- en afschrijvingen dagelijks van 7.00 uur 's ochtends tot 2.00 uur 's nachts	<b>Klantenservice (026) 445 77 11</b> Maandag t/m vrijdag van 8.00 uur tot 21.00 uur. Zaterdag van 9.00 uur tot 17.00 uur.
---	--

- a Heeft de Postbank de rente bijgeschreven of afgeschreven?

.....

Geef een verklaring voor je antwoord.

.....

- b Waarom geven banken rente?

.....

- c Hoe komen banken aan het geld om rente te betalen aan klanten die sparen?

.....

- 4 Hieronder staat een aflossingstabel (aflossing betekent terugbetalen) voor het lenen van geld. Gebruik deze bij het oplossen van de volgende vragen.

#### Aflossingsvoorbeelden

Leningbedrag in handen (in €)	Te betalen termijnbedrag per maand					
	12 mnd.	24 mnd.	36 mnd.	48 mnd.	60 mnd.	84 mnd.
3.000	267,63	142,30	100,75	80,14	67,90	54,20
5.000	441,41	232,55	163,19	128,71	108,18	85,06
8.000	706,26	372,08	261,11	205,94	173,09	136,09
10.000	879,42	461,71	322,93	253,89	212,75	166,30
15.000	1.315,36	688,83	480,61	376,96	315,15	245,28
20.000	1.753,82	918,44	640,81	502,62	420,19	327,04
25.000	2.186,84	1.142,67	795,55	622,70	519,54	402,84
30.000	2.624,21	1.371,20	954,66	747,24	623,45	483,40
40.000	3.498,95	1.828,27	1.272,88	996,31	831,27	644,54
50.000	4.365,34	2.277,09	1.582,74	1.236,86	1.030,36	796,56
60.000	5.238,41	2.732,60	1.899,28	1.484,23	1.236,44	955,87
80.000	6.984,55	3.643,34	2.532,38	1.978,97	1.648,58	1.274,50
100.000	8.730,69	4.554,17	3.165,47	2.473,72	2.060,73	1.593,12

a Je leent € 5.000,-. Dat betaal je in 48 maanden terug. Hoeveel moet je totaal terugbetalen?

.....

b Hoeveel rente heb je dan betaald?

.....

c Vind je dat je veel rente moet betalen?

.....

- 5 Hieronder en op de volgende bladzijde zie je een aantal advertenties uit Noorse kranten. Daarin staan prijzen vermeld. Reken voor de producten uit wat ze in euro's zouden moeten kosten. 1 Noorse kroon (NOK) is € 0,13 waard.

## Ny Mercedes-Benz til demobilpris!



Utvalgte C180T (stv.) modeller med Pluss-pakke:

Klima



Automatgir

m/cruisecontrol



Regnsensor

styrer vindusviskeren automatisk

Metallic

og lettmetallfelger



Veil. kr. 385.800,-

Nå kr 359.900,-

Kontakt oss for prøvekjøring eller oppsek oss på [www.mercedes-benz.no](http://www.mercedes-benz.no) Avbildet modell kan avvike fra standard.




Mercedes-Benz

Bygget som ingen annen bil

**BERTEL O. STEEN  
TØNSBERG**

Slagenvæien 67 Kilen, Tønsberg - Tlf. 33 37 69 00  
Fax 33 37 69 01 - Bruktbilavd. 33 37 69 23 - 33 37 69 24




**Pakke 3**

**KENWOOD  
SURROUND**

5x80W receiver m/6 analoge innganger, 5 CD-spiller  
karusell og 2 stk. 300W høyttalere.

**5990,-**

(Pris v/kiøp av enkeltkomponenter 9500,-)






**NOKIA  
7110**

Kun 10 stk på lager

**5998,-**

Tilgang til tjenester og tekstinformasjon via Internett Rask håndtering med den smarte NavIT Roller Ekstra stort display og meget stort minne • Intelligent ordbok • Kalender • Dual Band • Opp til 1000 navn i telefonen • Taleid opp til 4 timer og 260 timer stand-by.



Tilbudene gjelder t.o.m. 28/12 t.o.m. 31/12-99

**joker**

Velkommen til hyggelig  
*Romjulsandel*

**Pizza Grandiosa**  
Stabburet, 585 g

**24<sup>95</sup>**




**Appelsinbrus,  
Sitronbrus,  
Champagnebrus,  
Naturlig Mineralvann**  
Eldorado, 1,5 ltr.

**9<sup>95</sup>** +pant


Joker er en landsdekkende butikk-kjede og medlem i Norges største innkjøpsorganisasjon - Norgesgruppen. Dette gir deg lave priser, gode tilbud og riktig vareutvalg. Joker er der du bor - kort avstand, rask handel, faste lave priser og gode tilbud.

**De smarte sparer tid og penger!**





# 2



## Belasting over de Toegevoegde Waarde (BTW)

### 2.1

### VERSCHILLENDE BTW-TARIEVEN



#### INFO 2.1

Aan het eind van de grote vakantie organiseert Tjeerd, eigenaar van camping 't Haasje, altijd een groot feest voor alle personeelsleden. In de grote vakantie hebben veel mensen bij Tjeerd op de camping gewerkt, vooral scholieren die een zakcentje wilden verdienen.

Voor het feest moet er van alles worden geregeld. Hapjes en drankjes worden gekocht, de feestzaal wordt versierd en voor iedereen is er een verrassing.

Vera, die de hele vakantie op camping 't Haasje in het restaurant heeft gewerkt, krijgt van Tjeerd de opdracht om het eten en drinken te regelen. Ze moet voor vijftwintig mensen inkopen doen.

Hier zie je de bon van Vera voor het eten en drinken dat zij voor het feest heeft ingekocht.

Kun je aangeven hoeveel BTW is inbegrepen in het totaalbedrag? Waarom kun je dit wel/niet?

.....

.....

.....

.....

.....

.....

#### Super Brentjes voor al uw levensmiddelen Schaijk

28-08-20..

frisdranken	€	35,87
noten		2,99
noten		3,15
chips e.d.		0,99
chips e.d.		0,99
chips e.d.		0,99
kaas		13,45
worst		22,89
sauzen		1,13
sauzen		1,13
sauzen		1,13
sauzen		1,13
snoep		2,89
kaas		12,67
frisdranken		23,60

Totaal € 125,00

Contant 140,00

Terug 15,00

bedankt en tot ziens

**2** Vul het schema in.

BTW-tarief	Over wat voor soort goederen of diensten wordt dit tarief berekend?	Drie voorbeelden van goederen of diensten
0% BTW		
6% BTW		
19% BTW		

**3** Hier staan vijftien goederen en diensten.  
Geef aan bij welk BTW-tarief ze horen.

	Welk BTW-tarief?		Welk BTW-tarief?
aardappelen		scooter	
aspirine		schoenmaker	
cola		pedicure	
kinderboeken		melk	
brood		hartchirurg	
auto		broodje frikadel	
bezoek aan de huisarts		voetbalschoenen	
chocolade			

**4** Waarom is bij een broodje frikadel speciaal, geserveerd op een plastic bakje, moeilijk aan te geven tot welk BTW-tarief dat hoort?

.....

.....

.....



## INFO 2.2

Je denkt niet bij elke aankoop na over hoeveel BTW je betaalt. En dat is maar goed ook.

- 5** Een gezin heeft per dag € 100,- aan uitgaven. Hoeveel BTW betaalt dit gezin ongeveer per dag?

.....  
.....

- 6** Wie ontvangt uiteindelijk alle BTW die de consumenten hebben betaald?

.....  
.....

- 7** Noem minimaal drie uitgaven die onder meer worden betaald uit de BTW-opbrengsten.

.....  
.....  
.....

Voor ondernemers ligt het verhaal over de BTW anders. Van de klanten ontvangen ze BTW en wanneer ze inkopen doen betalen ze BTW. Ondernemers worden niet beter en niet slechter van de BTW.


- 8** Toch zijn ondernemers niet blij met de BTW, ondanks dat ze er niet beter en niet slechter van worden. Waarom zullen ondernemers niet blij zijn met de BTW?

.....  
.....

9 Streep in het onderstaande schema de verkeerde woorden door.

bruto verkoopprijs	met/zonder BTW	inclusief/exclusief BTW	hoogste/laagste verkoopprijs
netto inkooprijs	met/zonder BTW	inclusief/exclusief BTW	hoogste/laagste inkooprijs
netto verkoopprijs	met/zonder BTW	inclusief/exclusief BTW	hoogste/laagste verkoopprijs
bruto inkooprijs	met/zonder BTW	inclusief/exclusief BTW	hoogste/laagste inkooprijs

Terug naar Tjeerd en zijn camping 't Haasje. Hieronder en op de volgende bladzijden zie je een aantal rekeningen/nota's die hij tijdens de zomervakantie heeft ontvangen of verstuurd. Jij doet alsof je Tjeerd bent. Vul bij iedere vraag het schema in.  
Eerst een voorbeeld.

 Camping 't Haasje Schaijkseweg 12 5373 KL HERPEN		Nota voor: Fam. Groenenweg Gordelweg 16 3037 KL Rotterdam	
Omschrijving		Prijs	
5 overnachtingen met vier personen		€	400 -
5 overnachtingen huisdier			30 -
BTW 19%			81 70
Totaal		€	510 70
Plaats: Herpen Datum: 23-07-20..			


Voor Tjeerd is dit ~~in~~koop/~~ver~~kopen

De netto ~~in~~kooprijs/~~ver~~kooprijs bedraagt € 430,-

Het bedrag aan BTW bedraagt € 81,70

De bruto ~~in~~kooprijs/~~ver~~kooprijs bedraagt € 510,70

10

		Nota voor: <i>Camping 't Haasje</i> <i>Schajkseweg 12</i> <i>5373 KL Herpen</i>
Slijterij v. d. Ree Jeneverbesstraat 34 3005 AE ROTTERDAM		
	Omschrijving	Prijs
	<i>Aan u geleverde diensten voor uw personeelsfeest d.d. 30/08/20..</i>	€ 1.700 -
	<i>19% BTW</i>	323 -
	Totaal	€ 2.023 -
Plaats: <i>Rotterdam</i> Datum: <i>31-08-20..</i>		


Voor Tjeerd is dit inkopen/verkopen

De netto inkoopprijs/verkoopprijs bedraagt € .....

Het bedrag aan BTW bedraagt € .....

De bruto inkoopprijs/verkoopprijs bedraagt € .....

11

		Nota voor: <i>Camping 't Haasje</i> <i>Schajkseweg 12</i> <i>5373 KL Herpen</i>
Tennisshop ACE Hoofdstraat 33 3133 XH ALPHEN A/D RIJN		
Aantal	Omschrijving	Prijs
<i>10</i>	<i>tennisrackets</i>	€ 1.000 -
	<i>19% BTW</i>	190 -
	Totaal	€ 1.190 -
Plaats: <i>Alphen a/d Rijn</i> Datum: <i>14-7-20..</i>		


Voor Tjeerd is dit inkopen/verkopen

De netto inkoopprijs/verkoopprijs bedraagt € .....

Het bedrag aan BTW bedraagt € .....

De bruto inkoopprijs/verkoopprijs bedraagt € .....

12

		Nota voor: <i>Camping 't Haasje</i> <i>Schaijkseweg 12</i> <i>5373 KL Herpen</i>	
Energiemaatschappij Essent Koningsweg 101 2211 BH DEN BOSCH			
Omschrijving	Prijs		
<i>Aan u geleverde energie over de maand juni 20..</i>	€	10.836 -	
<b>BTW</b>		1.464 -	
<b>Totaal</b>	€	12.300 -	
Plaats: <i>Den Bosch</i> Datum: <i>17-7-20..</i>			


Voor Tjeerd is dit inkopen/verkopen

De netto inkoopprijs/verkoopprijs bedraagt € .....

Het bedrag aan BTW bedraagt € .....

De bruto inkoopprijs/verkoopprijs bedraagt € .....

13

		Nota voor: <i>Derya Akgog en Peter van Lienden</i> <i>Teldersweg 90</i> <i>3052 TL Rotterdam</i>	
Camping 't Haasje Schaijkseweg 12 5373 KL HERPEN			
Omschrijving	Prijs		
<i>stageld voor de periode 28/06/20.. t/m 18/07/20.. en 21 overnachtingen voor twee personen à € 40</i>	€	840 -	
<b>BTW</b>		159 60	
<b>Totaal</b>	€	999 60	
Plaats: <i>Herpen</i> Datum: <i>23-07-20..</i>			

Voor Tjeerd is dit inkopen/verkopen

De netto inkoopprijs/verkoopprijs bedraagt € .....

Het bedrag aan BTW bedraagt € .....

De bruto inkoopprijs/verkoopprijs

bedraagt € .....

**14** Voor Tjeerd is dit inkopen/verkopen

De netto inkoopprijs/verkoopprijs

bedraagt € .....

Het bedrag aan BTW bedraagt

€ .....

De bruto inkoopprijs/verkoopprijs

bedraagt € .....

Camping 't Haasje Herpen	
25-07-20..	
tennisracket	€ 130,00
19% BTW	24,70
<b>Totaal</b>	<b>€ 154,70</b>
Contant	154,70
Terug	00,00
bedankt en tot ziens	

**15** Tjeerd heeft de tien tennisrackets van vraag 11 verkocht voor dezelfde prijs als bij vraag 14. De aankoopnota zie je hieronder weer afgebeeld. Vul voor Tjeerd het onderstaande schema in.

Aantal	Omschrijving	Prijs
10	tennisrackets	€ 1.000 -
	19% BTW	190 -
	Totaal	€ 1.190 -

Nota voor: *Camping 't Haasje Schaijkseweg 12 5373 KL Herpen*

Tennishop ACE  
Hoofdstraat 33  
3133 XH ALPHEN A/D RIJN

Plaats: *Alphen a/d Rijn*  
Datum: *14-7-20..*


De totale netto inkoopprijs voor de tien tennisrackets was	€
De totale bruto inkoopprijs voor de tien tennisrackets was	€
De totale netto verkoopprijs voor de tien tennisrackets was	€
De totale bruto verkoopprijs voor de tien tennisrackets was	€
Voor de tien tennisrackets moet Tjeerd aan de belastingdienst voor BTW afdragen	€

- 16** Camping 't Haasje heeft over de maand juni alle netto inkooprijzen, bruto inkooprijzen, netto verkooprijzen en bruto verkooprijzen bij elkaar op geteld. Hieronder vind je de resultaten.

Het totaal aan netto verkooprijzen in de maand juni was	€ 46.768,-
Het totaal aan bruto verkooprijzen in de maand juni was	€ 53.097,-
Het totaal aan bruto inkooprijzen in de maand juni was	€ 40.132,-
Het totaal aan netto inkooprijzen in de maand juni was	€ 34.997,-

- a** Bereken de BTW die camping 't Haasje in juni van haar klanten heeft ontvangen.

.....




- b** Bereken de BTW die camping 't Haasje in juni aan leveranciers heeft betaald.

.....



- c** Welk bedrag aan BTW moet camping 't Haasje over de maand juni aan de belastingdienst afdragen?

.....





**d** Heeft camping 't Haasje in juni winst of verlies gemaakt?  
Geef een verklaring voor je antwoord.

---


---

**17** Abdoel heeft een meubelwinkel in het centrum van Oss. Over het eerste kwartaal had Abdoel de volgende resultaten:

Het totaal aan bruto inkooprijzen was	€ 102.765,-
Het totaal aan netto inkooprijzen was	€ 86.357,-
Het totaal aan netto verkoopprijzen was	€ 151.641,-
Het totaal aan bruto verkoopprijzen was	€ 180.453,-

**a** Bereken voor Abdoel het bedrag aan BTW dat hij over het eerste kwartaal moet afdragen aan de belastingdienst.  
Tip: volg om deze vraag op te lossen dezelfde weg als bij vraag 16.

---



**b** Heeft Abdoel in het eerste kwartaal winst of verlies gemaakt?  
Geef een verklaring voor je antwoord.

---

---

**18** Groenteboer Radijs had over het eerste kwartaal de volgende resultaten:

Het totaal aan netto verkoopprijzen was	€ 15.765,-
Het totaal aan bruto verkoopprijzen was	€ 16.711,-
Het totaal aan bruto inkooprijzen was	€ 13.884,-
Het totaal aan netto inkooprijzen was	€ 13.098,-


**a** Bereken voor Radijs het bedrag aan BTW dat hij over het eerste kwartaal van 2001 moet afdragen aan de belastingdienst.

.....

**b** Heeft Radijs in het eerste kwartaal winst of verlies gemaakt? Geef een verklaring voor je antwoord.

.....

.....




**19** Liwia is eigenaar een snackbar. Over het derde kwartaal heeft ze de volgende resultaten behaald.

Het totaal aan bruto inkooprijzen was	€ 1.207,-
Het totaal aan netto verkoopprijzen was	€ 998,-
Het totaal aan netto inkooprijzen was	€ 1.004,-
Het totaal aan bruto verkoopprijzen was	€ 1.167,-

**a** Bereken voor Liwia het bedrag dat zij aan de belastingdienst moet afdragen.

.....





**b** Heeft Liwia een goed derde kwartaal gehad?

---

---


**20** Dit is een supervraag. Je hoeft deze vraag niet op te kunnen lossen om dit hoofdstuk voldoende af te sluiten. Maar als je deze vraag kunt beantwoorden heb je de werking van de BTW al aardig door.

**a** Ga terug naar vraag 17. Laat door berekening zien welk BTW-tarief Abdoel op zijn meubels in rekening brengt.

---

**b** Laat door berekening zien welk BTW-tarief groenteboer Radijs (vraag 18) zijn klanten in rekening brengt.

---



c Laat zien (vraag 19) welk BTW-tarief Liwia haar klanten in rekening heeft gebracht.

.....

d Wat klopt er niet aan de uitkomst bij Liwia? Geef hiervoor een verklaring.

.....

.....



### INFO 2.3

Bij de volgende vragen heb je de BTW-tarientabel uit het informatieboek nodig.

**21** Martha heeft in de winkel een spijkerbroek gekocht waarvoor ze € 70,- heeft betaald. Hoeveel BTW heeft ze betaald? De spijkerbroek valt onder het 19% tarief.

.....

**22** Voor twee nieuwe autobanden moet Timme € 119,- afrekenen. Voor de autobanden wordt 19% BTW in rekening worden gebracht. Hoeveel BTW betaalt Timme?

.....

**23** Eric van Tennishop ACE koopt tien paar tennisschoenen in met een netto inkoop prijs van € 40,- per paar.

**a** Wat is de totale bruto inkoop prijs van deze tien paar tennisschoenen? Sportschoenen vallen onder het 19% tarief.

.....

**b** De tennisschoenen verkoopt hij voor een bruto verkoopprijs van € 80,- per paar. Bereken de totale netto verkoopprijs van de tien paar tennisschoenen.





.....

**c** Hoeveel BTW heeft Eric totaal betaald?

.....


**d** Hoeveel BTW heeft Eric van zijn klanten ontvangen?

.....



e Hoeveel BTW moet Eric afdragen aan de belastingdienst?

.....



**24** Bakkerij Zoete Broodjes bakt ze bruin. Op een dag verkoopt de bakker aan zijn klanten twintig taarten. Zij betalen per taart € 15,- aan hem. Hij betaalde voor de ingrediënten een netto inkoop prijs van € 5,- per taart. De taarten vallen onder het 6% tarief.


a Hoeveel BTW heeft Zoete Broodjes van zijn klanten totaal ontvangen?

.....




b Hoeveel BTW heeft Zoete Broodjes aan zijn leveranciers totaal betaald?

.....



c Hoeveel BTW moet Zoete Broodjes totaal afdragen aan de belastingdienst?

.....



**25** De dagomzet van boetiek Kicke is € 245,- . De bruto inkooprijzen van de verkochte artikelen zijn € 107,10. Alle artikelen bij Kicke vallen onder het 19% tarief.

**a** Bereken voor boetiek Kicke de BTW die hij over deze dag moet afdragen aan de belastingdienst.

.....

**b** Bereken voor Kicke de winst die hij over deze dag heeft behaald. Winst bereken je met de netto inkooprijzen en de netto verkoopprijs.

.....



**26** Bij Omar in de winkel worden alleen artikelen verkocht die onder het 6% tarief vallen. Op een dag heeft Omar artikelen verkocht met een netto inkooprijzen van € 105,- . De bruto verkoopprijs van de artikelen was € 265,- .

**a** Bereken voor Omar de BTW die hij over deze dag moet afdragen aan de belastingdienst.

.....

**b** Hoeveel winst heeft Omar over deze dag gemaakt?

.....





**27** Een fiets wordt verkocht voor een bruto verkoopprijs van € 215,- . De netto inkoopprijs was € 180,- .

**a** Bereken hoeveel BTW er over deze fiets moet worden afgedragen.

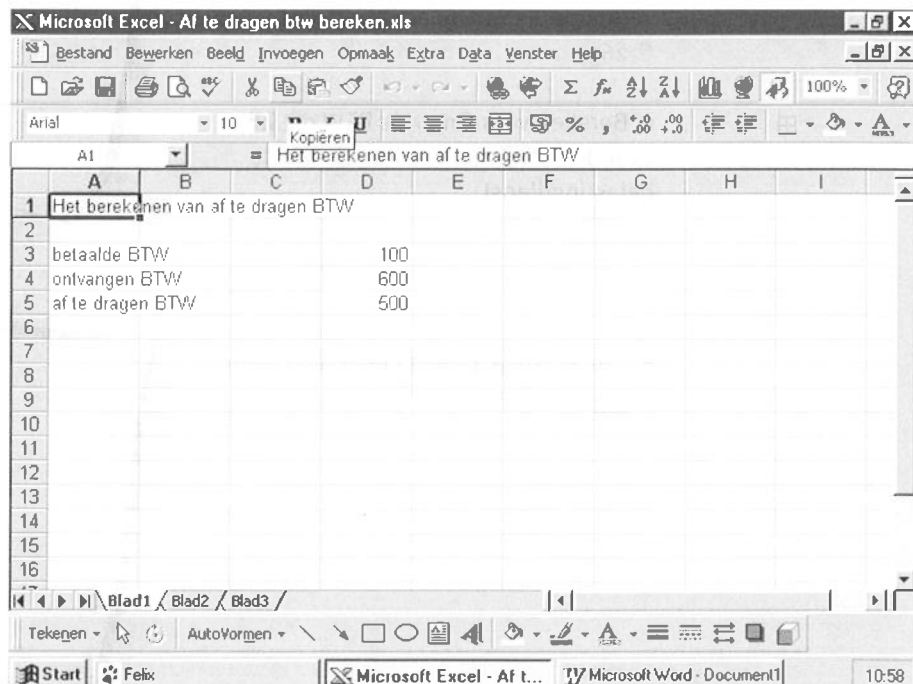
.....

**b** Hoeveel winst is er op deze fiets gemaakt?

.....



**28** BTW kun je ook berekenen met behulp van een spreadsheetprogramma, bijvoorbeeld Excel. Hierna zie je een voorbeeld daarvan. Wanneer je invoert hoeveel BTW er door een bedrijf is betaald en hoeveel BTW dat bedrijf heeft ontvangen, kan er worden uitgerekend hoeveel BTW er moet worden afgedragen. Probeer het zelf maar eens. Sla het resultaat op en print het.





- 30** Maak de spreadsheet nog mooier door eerst alle betaalde en ontvangen BTW in een bepaalde periode bij elkaar op te tellen en daarna de af te dragen BTW uit te rekenen. Sla het resultaat op en print het.

Dit is je eerste kennismaking met de BTW. Later in het boek komt dit onderwerp terug.

Een ding moet je goed onthouden: alle BTW wordt uiteindelijk door de consument betaald!

# 3

	bij 3% rente	bij 6% rente
na 1 jaar	€ 1.219,50	€ 1.239,00
na 2 jaar	€ 2.475,59	€ 2.552,34
na 3 jaar	€ 3.769,47	€ 3.944,56
na 4 jaar	€ 5.101,98	€ 5.420,21
na 5 jaar	€ 6.473,23	€ 6.984,45

## Interest

Daisy staat voor de etalage en bewondert een nieuwe geluidsinstallatie. Ze leest: 'Bij aankoop van deze geluidsinstallatie gratis de nieuwste cd van Girls Tears'.

De laatste cd van Girls Tears is helemaal te gek en die geluidsinstallatie ook. Maar de prijs: € 425,- . Op haar bankrekening heeft ze € 143,- . Dat is € 282,- te weinig.

'Hoe kom ik aan dat geld?', vraagt Daisy zich hardop af. 'Dat wordt lenen!'

